

Edukacja matematyczna kl. 2 – rząd 1

.....

1. Oblicz i wpisz wyniki.

$3 \cdot 6 = \dots$

$4 \cdot 7 = \dots$

$5 \cdot 6 = \dots$

$3 \cdot 4 = \dots$

$4 \cdot 5 = \dots$

$2 \cdot 9 = \dots$

$5 \cdot 5 = \dots$

$3 \cdot 9 = \dots$

2. Rozwiąż zadania i uzupełnij odpowiedzi.

W klasie ustawiono 5 stolików. Przy każdym usiadło po 4 uczniów. Ilu uczniów usiadło przy stolikach?



.....

Odp.: Przy stolikach usiadło uczniów.

3. Dzieci ulepiły 5 bałwanów. Każdy bałwan miał 5 węglowych guzików. Ile razem guzików mają wszystkie bałwany?



.....

Odp.: Wszystkie bałwany mają razem guzików.

4. Oblicz i wpisz wyniki.

$12 : 4 = \dots$

$8 : 2 = \dots$

$24 : 4 = \dots$

$15 : 5 = \dots$

$27 : 3 = \dots$


$16 : 4 = \dots$

$30 : 6 = \dots$

$14 : 2 = \dots$

5. Rozwiąż zadania i uzupełnij odpowiedzi.

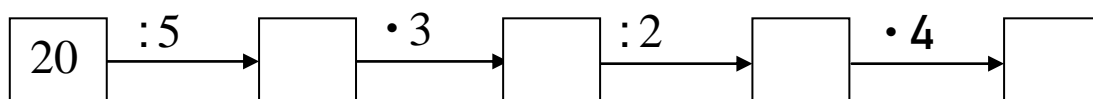
Kacper miał 25 płyt i rozdał je swoim 5 kolegom. Każdy chłopiec dostał po tyle samo płyt. Po ile płyt dostał każdy chłopiec?



.....

Odp.: Każdy chłopiec dostał po płyt.

6. Wykonaj obliczenia.



Edukacja matematyczna kl. 2 – rząd 2

.....

1. Oblicz i wpisz wyniki.

$3 \cdot 9 = \dots$

$7 \cdot 4 = \dots$

$5 \cdot 5 = \dots$

$5 \cdot 4 = \dots$

$4 \cdot 3 = \dots$

$2 \cdot 8 = \dots$

$6 \cdot 5 = \dots$

$3 \cdot 6 = \dots$

2. Rozwiąż zadania i uzupełnij odpowiedzi.


W klasie ustawiono 4 stoliki. Przy każdym usiadło po 4 uczniów. Ilu uczniów usiadło przy stolikach?



.....

Odp.: Przy stolikach usiadło uczniów.

3. Dzieci ulepiły 6 bałwanów. Każdy bałwan miał 4 węglowe guziki. Ile razem guzików mają wszystkie bałwany?



.....

Odp.: Wszystkie bałwany mają razem guzików.

4. Oblicz i wpisz wyniki.

$12 : 3 = \dots$

$9 : 3 = \dots$

$24 : 3 = \dots$

$15 : 3 = \dots$

$21 : 3 = \dots$


$16 : 4 = \dots$

$30 : 5 = \dots$

$18 : 2 = \dots$

5. Rozwiąż zadania i uzupełnij odpowiedzi.

Kacper miał 21 płyt i rozdał je swoim 3 kolegom. Każdy chłopiec dostał po tyle samo płyt. Po ile płyt dostał każdy chłopiec?



.....

Odp.: Każdy chłopiec dostał po płyt

6. Wykonaj obliczenia.

