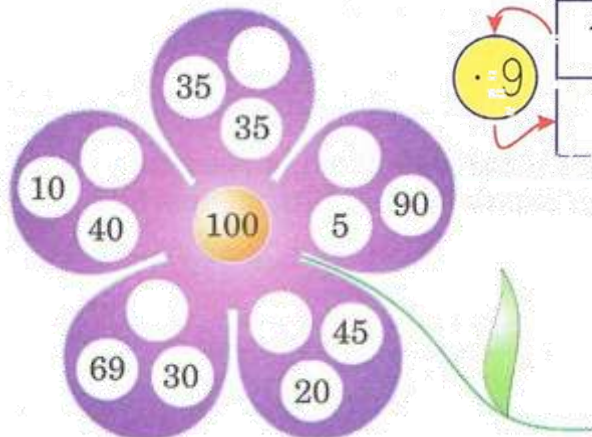



1. Ile brakuje do 100?



2. Uzupełnij tabelkę.

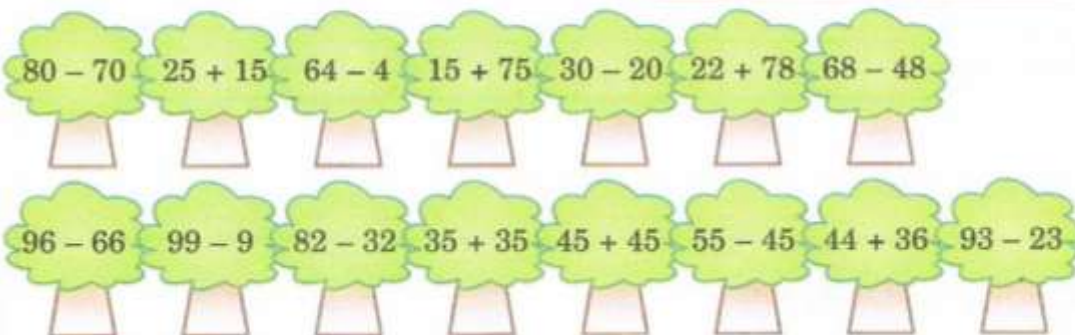
1	5	4	7	9	10
	27	18	54	72	

3. Pokoloruj postacie, które mają tabliczki z działaniami o wyniku: 100, 50, lub 5.







4. Wykonaj działania. Wyniku poszukaj w tabelce i wpisz odpowiednie litery. Odczytaj hasło

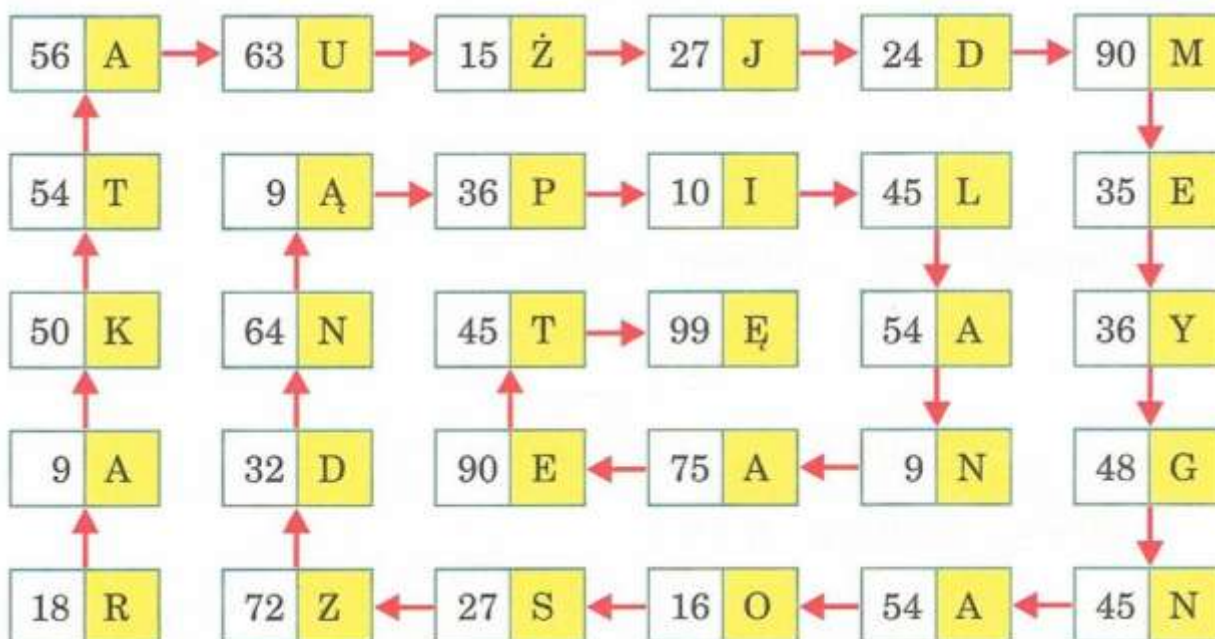
10	20	30	40	50	60	70	80	90	100
O	A	P	C	Z	H	Y	D	R	N



5. Śmieszki szukają skarbu. Mogą iść tylko po polach z wynikiem 91. Wykonaj działania. Pomaluj pola z wynikiem 91 na fioletowo, a odnaleziony skarb na różowo.

	$18 + 74 = \dots$	$79 + 12 = \dots$	$76 + 15 = \dots$	$47 + 44 = \dots$
$18 + 19 = \dots$	$54 + 46 = \dots$	$25 + 66 = \dots$	$33 + 17 = \dots$	
	$68 + 25 = \dots$	$58 + 33 = \dots$	$19 + 26 = \dots$	$59 + 26 = \dots$
$38 + 48 = \dots$	$44 + 28 = \dots$	$43 + 48 = \dots$	$39 + 52 = \dots$	 START
$58 + 42 = \dots$	$27 + 38 = \dots$	$47 + 48 = \dots$	$64 + 27 = \dots$	

6. Zamaluj tabliczki z wynikami, które są wielokrotnościami liczby 9. Napisz hasło.



Hasło:

.....