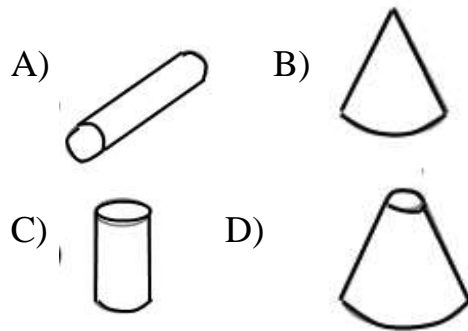
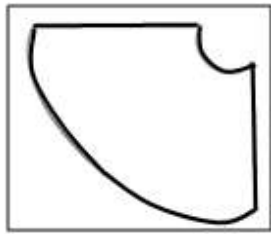


1. Która bryła powstanie w wyniku złożenia kartki w kształcie przedstawionym poniżej.



2. Wybierz zestaw figur, który różni się od pozostałych zestawów. Każdy zestaw jest oznaczony inną liczbą.

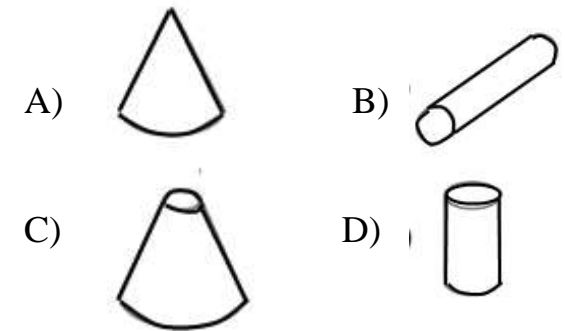
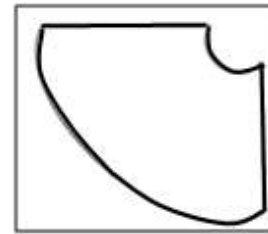
1					
2					
3					
4					

A) 1 B) 2 C) 3 D) 4

3. Chłopcy szli „gęsiego”, czyli jeden za drugim. Marek policzył, że przed nim idą 2 osoby, a za nim 6. Ile osób szło ?

A) 8 B) 9 C) 6 D) 2

1. Która bryła powstanie w wyniku złożenia kartki w kształcie przedstawionym poniżej.



2. Wybierz zestaw figur, który różni się od pozostałych zestawów. Każdy zestaw jest oznaczony inną liczbą.


1					
2					
3					
4					

A) 1 B) 2 C) 3 D) 4

3. Chłopcy szli „gęsiego”, czyli jeden za drugim. Marek policzył, że przed nim idą 4 osoby, a za nim 3. Ile osób szło ?

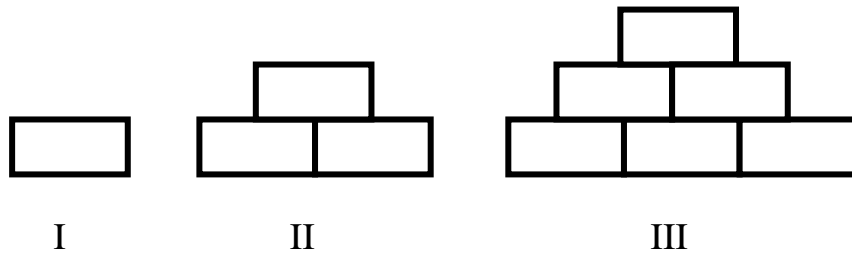
A) 8 B) 9 C) 6 D) 2

4. Jaki symbol będzie następny?




- A) B) C) D)

5. Z cegieł układamy murki. Ile potrzeba cegieł na ułożenie czwartego murka?



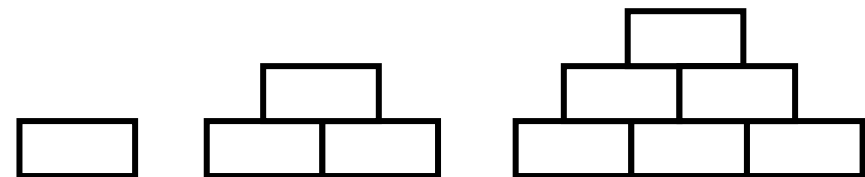
- I II III
A) 8 B) 10 C) 11 D) 12

4. Jaki symbol będzie następny?



- A) B) C) D)

5. Z cegieł układamy murki. Ile potrzeba cegieł na ułożenie czwartego murka?



- I II III
A) 8 B) 12 C) 11 D) 10