


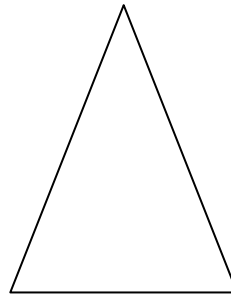
Sprawdzian - kl. 3

.....

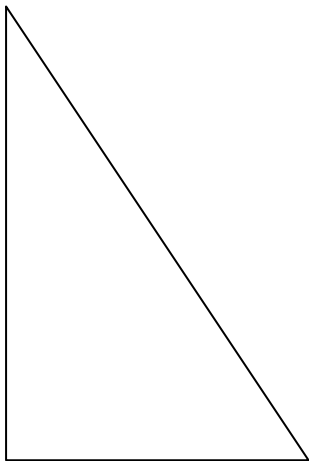
1. Zmierz boki figur i oblicz ich obwody.




Obwód



Obwód




Obwód



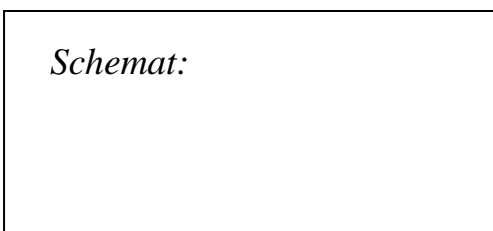
Obwód

2. Oblicz obwód prostokąta, którego boki mają długości: 5 cm i 12 cm.



Obwód:
.....
.....

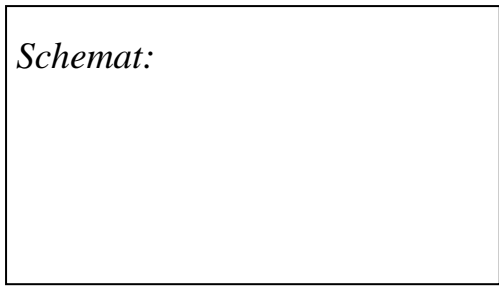
3. Oblicz obwód trójkąta, którego boki mają długości: 4 m, 3 m, 9 m



Obwód:
.....
.....

4. Oblicz obwód kwadratu, którego boki mają długość: 30 cm.

Schemat:



Obwód:

.....
.....


5. Obwód kwadratu jest równy 36 cm. Jaką długość ma każdy bok kwadratu?

Obliczenia:

Odp.:

6. Kort do tenisa ziemnego ma kształt prostokąta o wymiarach: 24 m długości i 11 m szerokości. Oblicz obwód kortu.

Schemat:




Obwód:

.....
.....

Odp.:

7. Mama naszyła na spodnie dwie kwadratowe łąty i chce je obszyć tasiemką. Bok każdej łąty ma 4 cm. Ile centymetrów tasiemki zużyje mama?

Schemat:



Obwód:

.....
.....

Odp.: