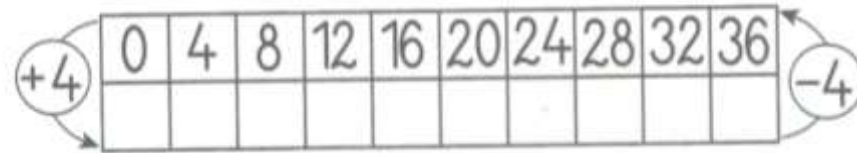
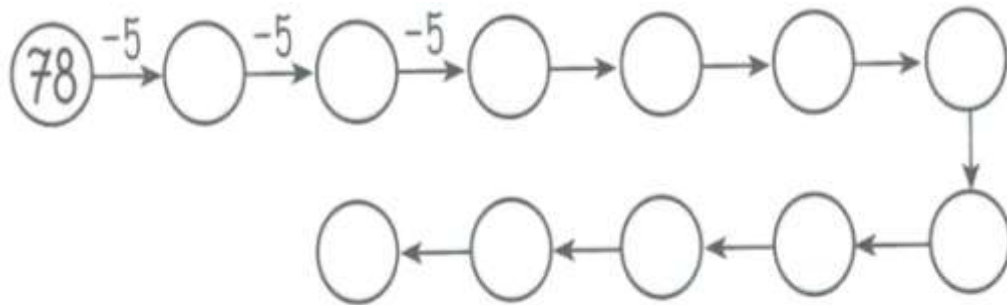


1. Uzupełnij tabelki



2. Każda strzałka oznacza „-5”. Oblicz i wpisz właściwe

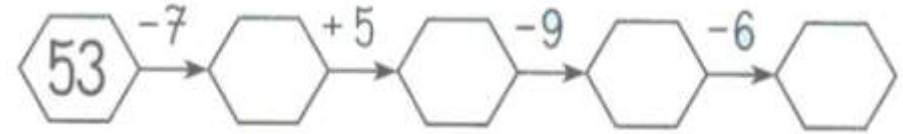


3. Sprawdź, która z odpowiedzi jest prawdziwa.

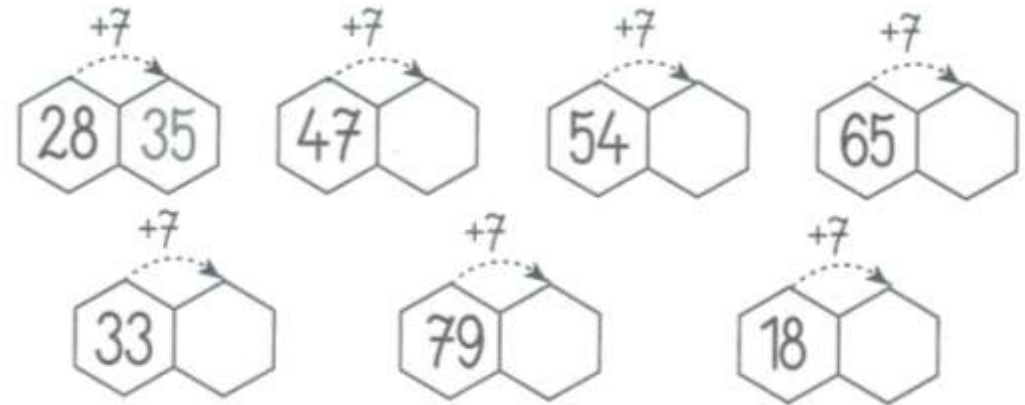
Basia była na spacerze 47 minut, Justyna spacerowała o 9 minut krócej. Ile minut trwał spacer Justyny.

- a) 56 minut
- b) 38 minut
- c) 48 minut

1. Wykonaj działania



2. Wpisz liczby o 7 większe od podanych.



3. Wpisz liczby o 9 mniejsze od podanych.

