

Sprawdzian – edukacja matematyczna - klasa 2

.....

1. Zapisz dodawanie za pomocą mnożenia.

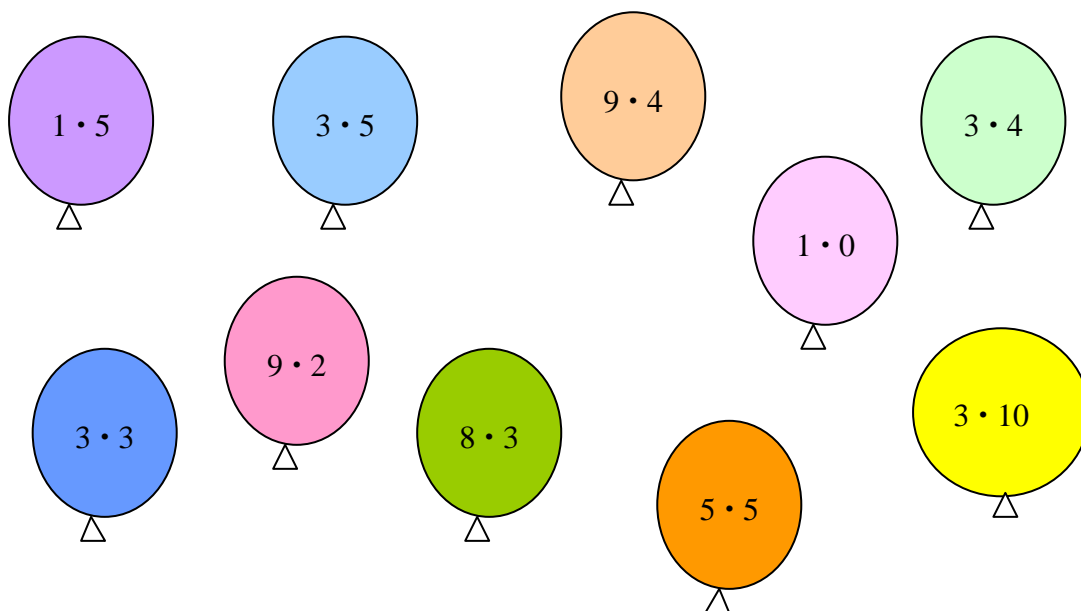
$$4 + 4 + 4 + 4 + 4 = \dots\dots\dots$$

$$5 + 5 + 5 = \dots\dots\dots$$

$$3 + 3 + 3 + 3 + 3 + 3 + 3 = \dots\dots\dots$$

$$2 + 2 + 2 + 2 = \dots\dots\dots$$

2. Wskaż za pomocą strzałek wyniki działań.



- 0 5 9 12 15 18 24 25 30 36**

3. Uzupełnij tabelki

| | |
|---|--|
| | |
| 6 | |
| 7 | |
| 4 | |
| 9 | |

| | |
|---|--|
| | |
| 5 | |
| 2 | |
| 8 | |
| 7 | |

4. Wstaw znaki: >, <, =

$3 \cdot 3 \dots\dots\dots 5 \cdot 4$

$7 \cdot 2 \dots\dots\dots 7 \cdot 5$

$4 \cdot 4 \dots\dots\dots 8 \cdot 2$

$9 \cdot 5 \dots\dots\dots 5 \cdot 6$

5. Wpisz brakujące liczby.

$3 \cdot \square = 6$

$10 \cdot \square = 30$


$\square \cdot 8 = 40$

$\square \cdot \square = 24$

6. Rozwiąż zadanie tekstowe.

W klasie ustawiono w 3 rzędach po 6 ławek. Ile ławek ustawiono w klasie?

Rysunek




Obliczenie:

Odpowiedź:

7. Rozwiąż zadanie tekstowe.

Kwiaciarka miała róże. Ułożyła z nich 5 jednakowych bukietów i włożyła do 7 wazonów. Ile róż miała kwiaciarka?

Rysunek



Obliczenie:

Odpowiedź: