


1. Tata rozpoczął pracę o godzinie 7.00, a skończył o godzinie 12.00.


Ile godzin pracował tata?



Obliczenie:


Odpowiedź:



2. Tomek wszedł do szkoły o godzinie 8.00. Był w szkole 4 godziny. O której godzinie Tomek wyszedł ze szkoły?



Obliczenie:


Odpowiedź:


3. Pola wychodzi z domu o godzinie 10.00. Ma wrócić do domu po trzech godzinach. O której godzinie powinna wrócić?




Obliczenie:



Odpowiedź:


4. Narysuj wskazówki na zegarach zgodnie z objaśnieniem.


2 godziny wcześniej



2 godziny później



3 godziny wcześniej



3 godziny później

