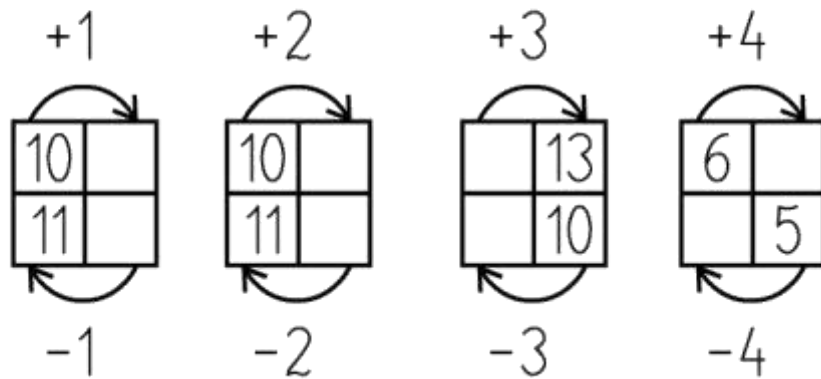
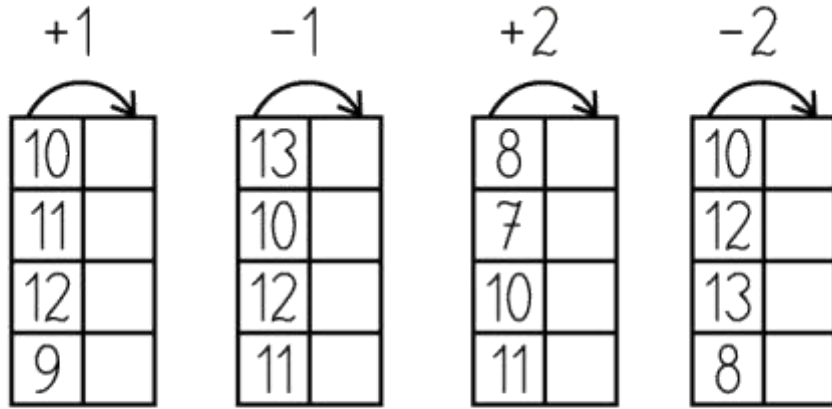




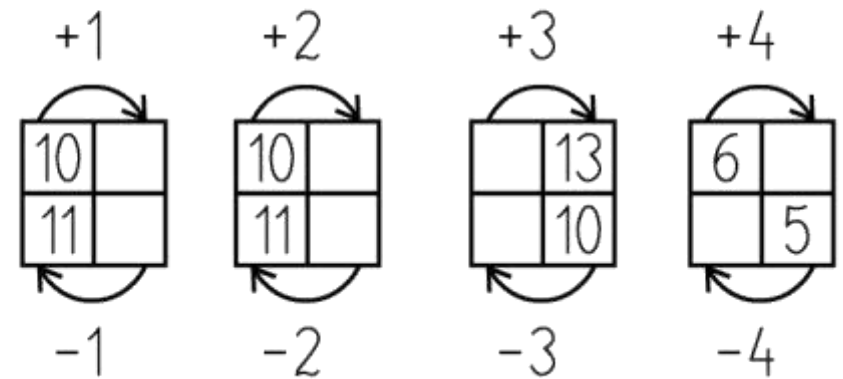
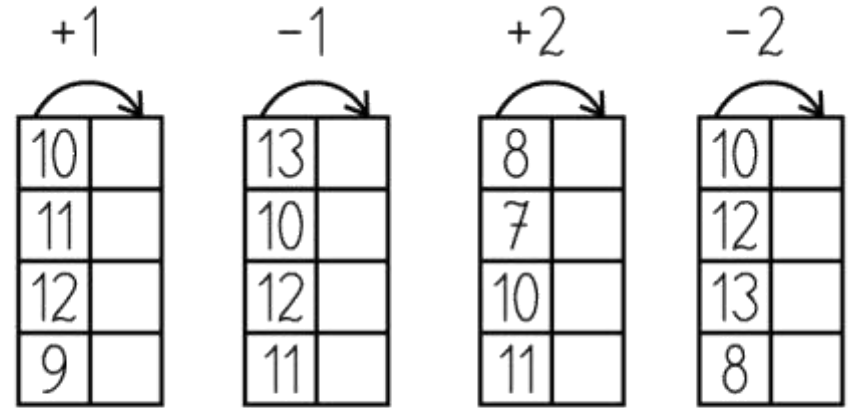
Wpisz w kółka odpowiednie liczby.



Sprawdź, czy te obliczenia są poprawne.

$10 + 3 + 1 = 11$	<input type="checkbox"/>	$6 + 4 + 3 = 13$	<input type="checkbox"/>
$11 + 2 + 1 = 13$	<input type="checkbox"/>	$3 + 7 + 2 = 12$	<input type="checkbox"/>
$10 + 1 + 2 = 12$	<input type="checkbox"/>	$1 + 9 + 1 = 13$	<input type="checkbox"/>

Wpisz w kółka odpowiednie liczby.



Sprawdź, czy te obliczenia są poprawne

$10 + 3 + 1 = 11$	<input type="checkbox"/>	$6 + 4 + 3 = 13$	<input type="checkbox"/>
$11 + 2 + 1 = 13$	<input type="checkbox"/>	$3 + 7 + 2 = 12$	<input type="checkbox"/>
$10 + 1 + 2 = 12$	<input type="checkbox"/>	$1 + 9 + 1 = 13$	<input type="checkbox"/>

