


1. W pustym akwarium narysuj o 2 rybki więcej.




2. W pustym akwarium narysuj o 1 rybkę mniej.



3. Napisz w okienkach między liczbami właściwe znaki:

<, >, =.

Pokoloruj akwarium z mniejszą liczbą rybek



3 2

1. W pustym akwarium narysuj o 2 rybki więcej.




2. W pustym akwarium narysuj o 1 rybkę mniej.




3. Napisz w okienkach między liczbami właściwe znaki:

<, >, =.


Pokoloruj akwarium z mniejszą liczbą rybek.



2 3



1 3




2 1

4. Wstaw właściwe znaki: <, >, =.

1 ... 2	3 ... 1
2 ... 2	2 ... 3
3 ... 2	1 ... 3
3 ... 3	2 ... 1

5. Pokoloruj pierwszą rybkę od strony lewej na żółto, trzecią rybkę od strony prawej na niebiesko.



4. Wstaw właściwe znaki: <, >, =.

2 ... 1	3 ... 1
2 ... 2	2 ... 3
3 ... 3	1 ... 3
3 ... 2	1 ... 2

5. Pokoloruj pierwszą rybkę od strony lewej na żółto, trzecią rybkę od strony prawej na niebiesko.

