



W norze są 2 liski i ich mama. Ile lisków jest w norze.?

Pokoloruj rysunek, który jest rozwiązaniem zadania.




W norze były 3 liski. Mama poszła na polowanie. Ile lisów zostało w norze?


Pokoloruj odpowiedni rysunek.



Zapisz obliczenia










Rozwiąż zadania za pomocą odejmowania.

W kurniku były 3 kury. Jedna kura wyszła z kurnika. Ile kur zostało w kurniku.



W błotnej sadzawce kąpały się 3 świnki. 2 świnki wyszły z błota. Ile świnek zostało w sadzawce?



Kotek miał dwie miski z mlekiem. Wypił mleko z jednej miski. W ilu miskach jest jeszcze mleko?